



وزارة التربية

الإدارة العامة لمنطقة مبارك الكبير التعليمية

كنترول مبارك الكبير

امتحانات الفصل الدراسي الأول
٢٠٢٠ / ٢٠١٩

السادس	الصف
الاجتماعيات	المادة



وزارة التربية	العام الدراسي 2020/2019
منطقة مبارك الكبير التعليمية	الفصل الدراسي الأول
التوجيه الفني للاجتماعيات	الزمن / ساعة و45 دقيقة



اختبار مادة الكويت ودول الخليج العربية (الصف السادس)

أجب عن جميع الأسئلة التالية :

السؤال الأول :- (موضوعي) ويتكون من (أ - ب - ج)

(أ) أكمل العبارات التالية بما يناسبها : (لكل نقطة درجة واحدة)

1- الدولة العربية الخليجية الوحيدة التي لم تخضع للاستعمار الأوروبي تسمى المملكة العربية السعودية (ص 65)

2- يطلق على الرياح الجنوبية الشرقية التي تهب على منطقة الخليج العربية اسم الكوس (ص 25)

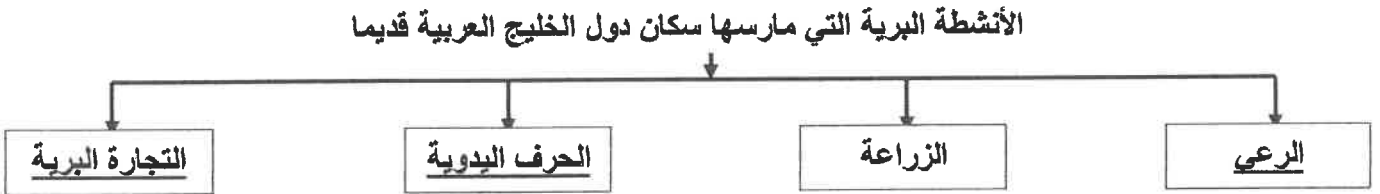
3- ألغيت اتفاقية الحماية البريطانية مع دولة الكويت في عهد سمو الشيخ عبدالله السالم (ص 62)

4- الدولة العربية الخليجية التي ظهرت بها حضارة دلمون تسمى مملكة البحرين (ص 48)

5- يطلق على كل مائة سنة اسم القرن (ص 45)

6- نهاية موسم الفوص على اللؤلؤ تسمى القفال (ص 32)

(ب) أكمل المخطط السهمي التالي : 3 درجات (ص 28)



(ج) اكتب المفاهيم أو المصطلحات الدالة على العبارات التالية :

1- (الهضبة) أرض مرتفعة وسطحها مستوي وتمتد لمساحة كبيرة . (ص 23)

2- (الاستقلال) تحرر الدولة من المستعمرة الأجنبية وقيامها بإدارة شؤونها الداخلية والخارجية .ص63

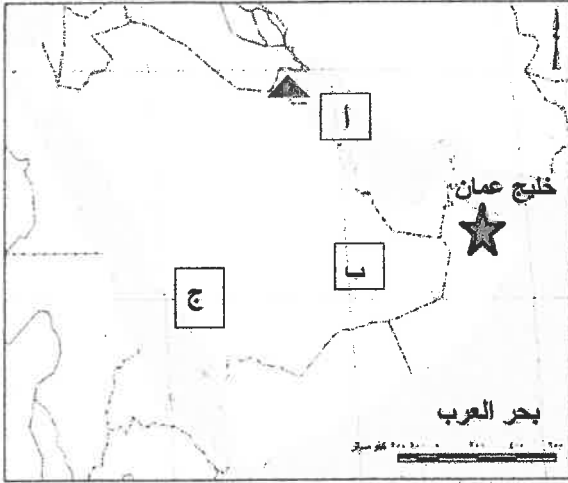
3- (الواحة) منطقة تقع في الصحراء , فيها مياه عذبة صالحة للزراعة . (ص 29)

4- (المناخ) حالة الجو في مكان ما خلال فترات زمنية طويلة . (ص 25)

5- (الموقع النسبي) الموقع بالنسبة للماء واليابس . (ص 20)

السؤال الثاني :- (موضوعي) ويتكون من (أ - ب - ج)

(أ) لاحظ خريطة دول مجلس التعاون الخليجي التالية ثم نفذ المطلوب فيما يلي : (ص 23)



1- الحرف (أ) يمثل مسطح مائي يسمى الخليج العربي

2- الحرف (ب) يمثل صحراء تسمى الربع الخالي

3- الحرف (ج) يمثل جبال تسمى جبال عسير

4- حدد على الخريطة دولة الكويت باستخدام الرمز (▲) ص 66

5- حدد على الخريطة الجبل الاخضر باستخدام الرمز (★)

(ب) اختر للمجموعة (أ) ما يرتبط بها من المجموعة (ب) بوضع الرقم في المكان المناسب :- (ص 32)

المجموعة (أ)	الرقم المناسب	المجموعة (ب)
1- النوخذة	(4)	- مطرب السفينة .
2- المجدمي	(.....)	- يغوص في أعماق البحر بحثا عن اللؤلؤ .
3- السيب	(1)	- ربان السفينة .
4- النهام	(3)	- يسحب البحار من اعماق البحار .
5- الطواش	(5)	- تاجر اللؤلؤ .
	(6)	- رئيس البحرية .

(ج) صنف النباتات التالية حسب الجدول الذي يليها :- (ص 26)

(الخبيزة - الصبار - التندا - الحويذان)

نباتات حولية	نباتات معمرة
-الخبيزة -الحويذان	-الصبار -التندا



السؤال الثالث :- (موضوعي) ويتكون من (أ - ب)

(أ) ضع خط تحت العنصر المناسب من بين الخيارات التي تلي كل عبارة :-

1- تقع منطقة الخليج العربية بالنسبة لقارة آسيا في الجهة :

(الشمالية الشرقية - الشمالية الغربية - الجنوبية الشرقية - الجنوبية الغربية) (ص 19)

2- أول دولة أوروبية استعمارية وصلت للخليج العربي واحتلت اجزاء منها تسمى

(فرنسا - البرتغال - هولندا - إنجلترا) (ص 60)

3- المنطقة التي هاجرت اليها قبائل المعاضيد تسمى :

(عمان - قطر - رأس الخيمة - البحرين) (ص 57)


4- اشتهرت حضارة مجان (عمان) قديما بصهر معدن يسمى :

(الحديد - الذهب - النحاس - الفضة) (ص 48)

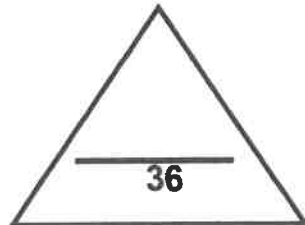
5- حصلت الكويت على استقلالها عن بريطانيا في عام :

(1960 م - 1961 م - 1962 م - 1963 م) (ص 63)

(ب) انظر الى الصور التالية ثم اكتب التعليق المناسب لكل صورة :-



1- خياطة البشوت (ص 29) 2- الحضارة الهلينستية جزيرة فيلكا (ص 47) 3- ابار مياه شرب (ص 51)



مجموع درجات السؤال الأول



السؤال الرابع : (مقال) ويتكون من (أ - ب - ج - د)

(أ) لاحظ الشكل المقابل ثم أكمل البطاقة التعريفية التالية :



1- أسم المجلس : مجلس التعاون لدول الخليج العربية (ص 70) درجة

2- مقر المجلس : مدينة الرياض (السعودية) (ص 70) درجة

3- سنة التأسيس : 1981 م (ص 70) درجة

4- أهداف المجلس : (ص 76) درجته

- تحقيق التعاون بين الدول الأعضاء
- تحقيق الترابط والصلات بين دول المجلس
- العمل على تقدم دول المجلس في المجال العلمي

(ب) عرف ما يلي :- لكل سؤال درجة

1- الموقع الفلكي :- الموقع بالنسبة لخطوط الطول ودوائر العرض . (ص 20)

2- الاستعمار :- سيطرة دولة قوية على دولة ضعيفة بهدف استغلال مواردها (خيراتها) ص 61

3- الخليج العربي :- هو ذراع مائي لبحر العرب يمتد من خليج عمان جنوبا حتى شط العرب شمالا.

(ص 19)

(ج) ما العوامل التي ساعدت على قيام الحضارات بمنطقة الخليج العربية :

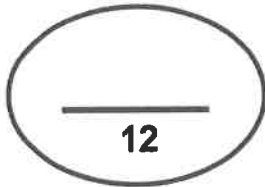
(درجة ونصف لكل نقطة) (ص 51-52)

- موقع الخليج العربي المتميز
- توفر آبار مياه الشرب الناتجة عن الأمطار
- ملائمة البيئة الطبيعية لبعض مناطق الخليج العربية للاستقرار

(د) أذكر أهم صادرات وواردات منطقة الخليج العربية الى الهند واليمن وسواحل شرق افريقيا قديما :-

(درجتين (ص 34)

أهم الصادرات	أهم الواردات
❖ التمور	❖ الشاي - السكر - الأرز - التوابل يكتفى بوحدة



مجموع درجات السؤال الرابع



(أ) علل لما يأتي :-

- 1- انصراف سكان دول الخليج العربية عن حرفة الغوص على اللؤلؤ. (درجتين ويكتفى بنقطتين) (ص 31)
- ظهور اللؤلؤ الصناعي
 - اكتشاف النفط

- 2- النباتات المعمرة متوفرة طوال العام .
- تتحمل الجفاف بسبب طول جذورها
 - كثرة الأشواك .
- * قلة أوراقها
- * القدرة على تخزين المياه .

(ب) قارن بين كل من :- (4 درجات ويكتفى بنقطتين) (ص 21)

المعيار	خطوط الطول	دوائر العرض
التعريف	خطوط وهمية ترسم على الكرة الأرضية وتقسّم الكرة الأرضية إلى قسمين شرقي وغربي .	خطوط وهمية ترسم على الكرة الأرضية و تقسم الكرة الأرضية إلى قسمين شمالي وجنوبي .
العدد	360 خط	180 دائرة

(ج) اكتب فيما يلي :-

- 1- نصوص اتفاقية معاهدة الحماية البريطانية للكويت سنة 1899 . (درجتين ويكتفى بنقطتين) (ص 62)
- ألا يتنازل حاكم الكويت او يبيع او يوجر أي جزء من اراضي الكويت دون موافقة بريطانيا
 - ألا يستقبل حاكم الكويت او خلفائه ممثلين عن أي دولة اجنبية دون موافقة بريطانيا
 - حماية بريطانيا للكويت من أي خطر خارجي .
- 2- سفينة البقلة من أفضل أنواع السفن المستعملة في رحلات السفر قديما . (ص 34)
- متانتها وقدرتها على نقل الحمولة الكبيرة .
 - قلة تعرضها للاخطار البحرية

مجموع درجات السؤال الخامس

12

انتهت الأسئلة مع تمنياتنا لكم بالتوفيق ..

